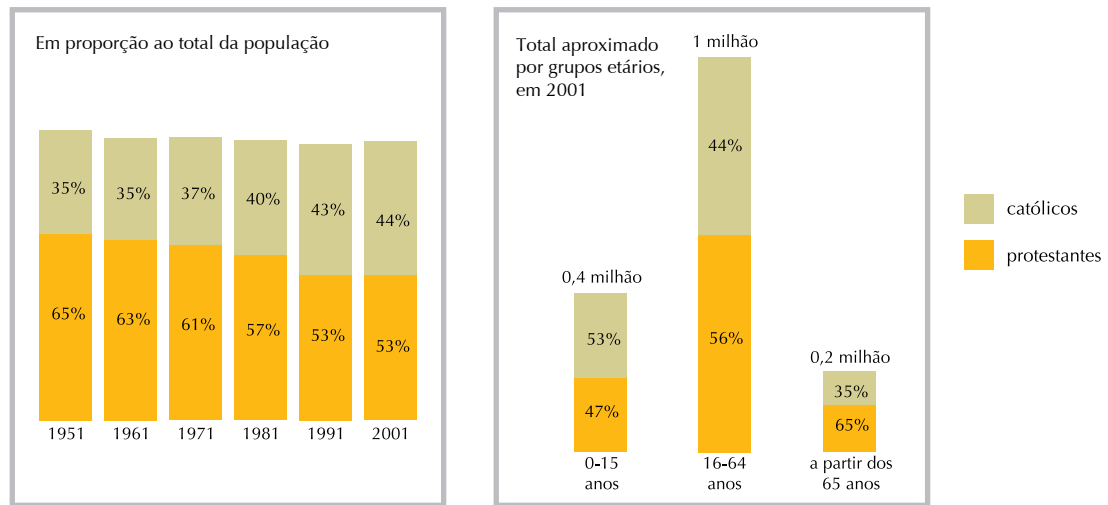


Questão
44

Católicos e protestantes na Irlanda do Norte



DAN SMITH

Adaptado de *Atlas dos conflitos mundiais*. São Paulo: Companhia Editora Nacional, 2007.

Considere os gráficos e o fato de o território em questão não ter sido marcado por significativa imigração na segunda metade do século XX.

As variações temporais das proporções de católicos e protestantes estão vinculadas ao seguinte indicador demográfico:

- (A) expectativa de vida menor entre os protestantes do que entre os católicos
- (B) nupcialidade mais expressiva entre os católicos do que entre os protestantes
- (C) mortalidade infantil maior entre as crianças protestantes do que entre as católicas
- (D) índice de fecundidade mais elevado entre as irlandesas católicas do que entre as protestantes

Questão
45

A estrutura desse sistema internacional de circulação alcançou tal grau de complexidade que ultrapassa a compreensão da maioria das pessoas. As fronteiras entre funções diferentes como as de bancos, corretoras, serviços financeiros, financiamento habitacional, crédito ao consumidor etc. tornaram-se cada vez mais porosas, ao mesmo tempo que novas transações futuras de mercadorias, de ações, de moedas ou de dívidas surgiram em toda parte, introduzindo o tempo futuro no tempo presente de maneiras estarrecedoras.

DAVID HARVEY

Adaptado de *Condição pós-moderna*. São Paulo: Edições Loyola, 1992.

O texto faz referência a características de um dos mais importantes aspectos do atual estágio do capitalismo. Dois fatores que contribuem para o fenômeno destacado pelo autor do fragmento estão apontados em:

- (A) aumento da especulação financeira – maior eficiência das redes de transportes
- (B) controle do Banco Mundial sobre o sistema financeiro – formação da União Monetária Mundial
- (C) desregulamentação dos mercados financeiros – disseminação das tecnologias da informação
- (D) padronização dos horários de funcionamento dos centros financeiros – surgimento dos bancos globais

Questão 46

Ildenice Rita da Silva, de 33 anos, chegou a Brasília há 15 anos. Foi atrás da irmã, Denizelda de Carvalho, de 41, que morava na cidade desde a década de 70. Ildenice sonhava com um emprego melhor do que em Riachão das Neves, na Bahia, onde trabalhava na roça com a família. (...) De acordo com o Censo 2000, de 1995 a 2000, 15,6% das saídas do Nordeste tiveram como destino as cidades-satélites do Distrito Federal e os municípios goianos ao redor de Brasília. Além das promessas de emprego, uma política de distribuição de lotes, anteriormente iniciada, fez inchar o entorno de Brasília.

LISANDRA PARAGUASSÚ

Adaptado de *O Globo*, 12/05/2002

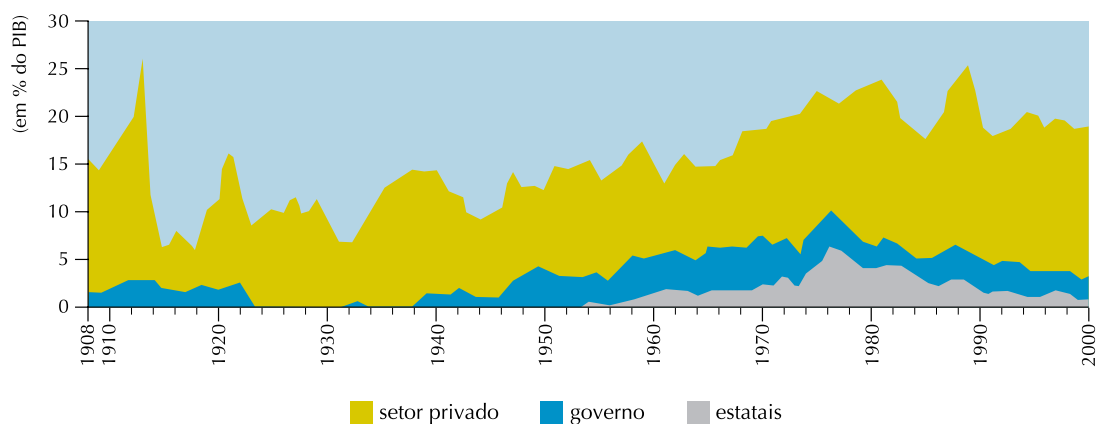
A situação relatada na reportagem possibilita estabelecer uma correlação entre dois processos de grande importância para a área das ciências humanas.

Esses processos estão indicados em:

- (A) urbanização – modernização agrícola
- (B) migração – segregação socioespacial
- (C) terciarização – reordenamento territorial
- (D) metropolização – desemprego estrutural

Questão 47

Brasil: participação do setor privado, estatais e governo na taxa de investimento na economia



EUSTÁQUIO DE SENE e JOÃO C. MOREIRA

Geografia geral e do Brasil: espaço geográfico e globalização. São Paulo: Scipione, 2007.

A importância do Estado na economia de um país varia ao longo do tempo de acordo, dentre outros aspectos, com o papel que desempenha na produção de riqueza.

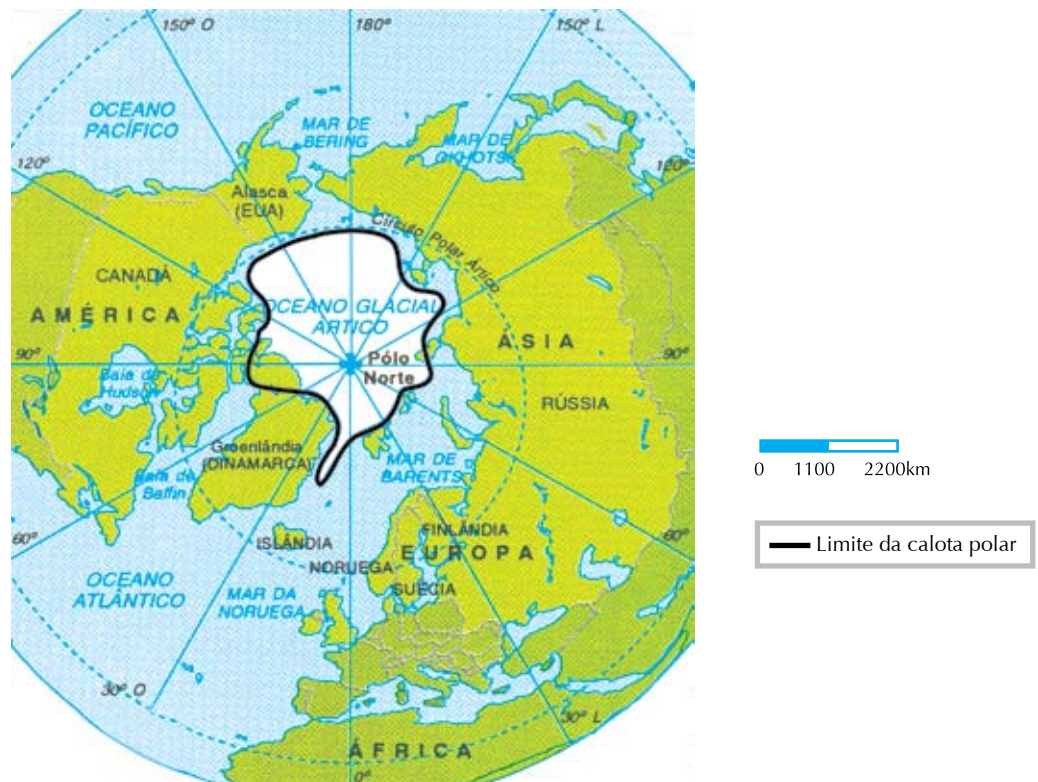
No gráfico acima, é possível identificar o período de maior relevância do Estado como agente direto do crescimento econômico no Brasil.

Esse período e a correspondente doutrina econômica que fundamentava os seus investimentos são identificados como:

- (A) Estado Novo – monetarismo
- (B) governo JK – protecionismo
- (C) Nova República – liberalismo
- (D) regime militar – keynesianismo

Questão
48

Projeção polar norte



REINALDO SCALZARETTO e DEMÉTRIO MAGNOLI
Atlas geopolítica. São Paulo: Scipione, 1996.

(Nova) Guerra Fria sobre o Ártico

Mesmo divergindo sobre as causas do fenômeno, a comunidade científica é unânime: o Ártico está derretendo. Segundo um estudo da Arctic Climate Impact Assessment (ACIA), publicado em 2004, 4.998.000 km² de geleiras desapareceram ao longo dos últimos 30 anos.

Adaptado de <http://diplo.uol.com.br>

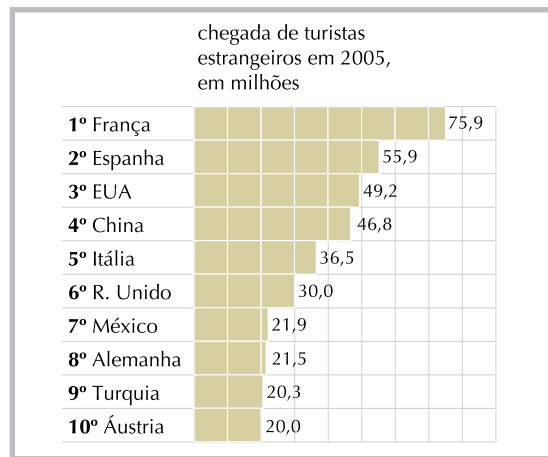
No mapa e na reportagem, apresentam-se informações que remetem a possíveis alterações na economia e na política da Região Ártica, fruto da combinação de eventos como a mundialização do capitalismo e o aquecimento global.

Dois significativos interesses estratégicos que podem produzir uma redefinição da geopolítica do Ártico são:

- (A) instalação de bases militares e monitoramento do tráfego aéreo
- (B) aproveitamento da biodiversidade e expansão do mar territorial
- (C) exploração de recursos minerais e controle de novas rotas marítimas
- (D) utilização de reservas de água potável e aproveitamento da energia hidroelétrica

Questão 49

Ranking do turismo mundial



Folha de São Paulo, 25/02/2007

Belezas naturais e boa infra-estrutura de transportes e hotelaria são atributos comuns às áreas que recebem grandes fluxos anuais de turistas.

A leitura do gráfico fornece elementos para concluir que outro importante fator comum aos países que se destacam como destino turístico é:

- (A) território vasto com grande diversidade climática
- (B) política de preservação do patrimônio histórico
- (C) anulação das ações de grupos políticos extremistas
- (D) semelhança cultural com o país de origem dos visitantes

Questão 50

O impacto da vinda da Família Real portuguesa para o Brasil implicou alterações significativas para a cidade do Rio de Janeiro que se prolongaram durante todo o período conhecido como “joanino”. Essas alterações produziram uma nova dinâmica socioeconômica e redefiniram, em vários aspectos, a inserção da cidade no contexto internacional.

Uma função urbana associada a essa nova inserção está indicada em:

- (A) crescente pólo turístico em função da chegada da Missão Artística Francesa
- (B) expressivo núcleo comercial articulado à nascente rede ferroviária brasileira
- (C) principal porto brasileiro relacionado à importação legal de manufaturas britânicas
- (D) importante centro religioso decorrente da instalação do Tribunal da Santa Inquisição

Questão 51

Neste ano, ocorreu a primeira Olimpíada na China. O governo chinês, que vem há três décadas realizando mudanças na economia, apostou no sucesso dos jogos como um reforço à sua imagem internacional.

Essa expectativa se contrapõe à constatação da seguinte disparidade socioespacial existente no país:

- (A) redução das diferenças de renda nas cidades – ampliação das diferenças de renda no campo
- (B) preservação do consumo de produtos tradicionais pelos setores urbanos – crescente ocidentalização dos camponeses
- (C) crescimento da acumulação de capital nas áreas urbanas – manutenção de bolsões de pobreza nas áreas rurais
- (D) ampliação do setor econômico estatal nas províncias litorâneas – estagnação dos investimentos públicos no interior

Questão
52

Linha Internacional de Mudança de Data



ELIAN ALABI LUCCI *et al.*

Adaptado de *Território e sociedade no mundo globalizado*. São Paulo: Saraiva, 2005.

Ao longo do meridiano 180°, no Oceano Pacífico, encontra-se a Linha Internacional de Mudança de Data. Quando for meio-dia em Greenwich, será meia-noite na Linha Internacional de Mudança de Data e lá um novo dia estará se iniciando.

Considere que na localidade B, assinalada no mapa, sejam 11 horas de domingo, do dia 22 de junho de 2008.

Nessas condições, na localidade A, também assinalada no mapa, o horário, o dia da semana e o dia do mês de junho do mesmo ano serão, respectivamente:

- (A) 10 – sábado – 21
- (B) 11 – sábado – 21
- (C) 10 – domingo – 22
- (D) 11 – domingo – 22

Questão
53

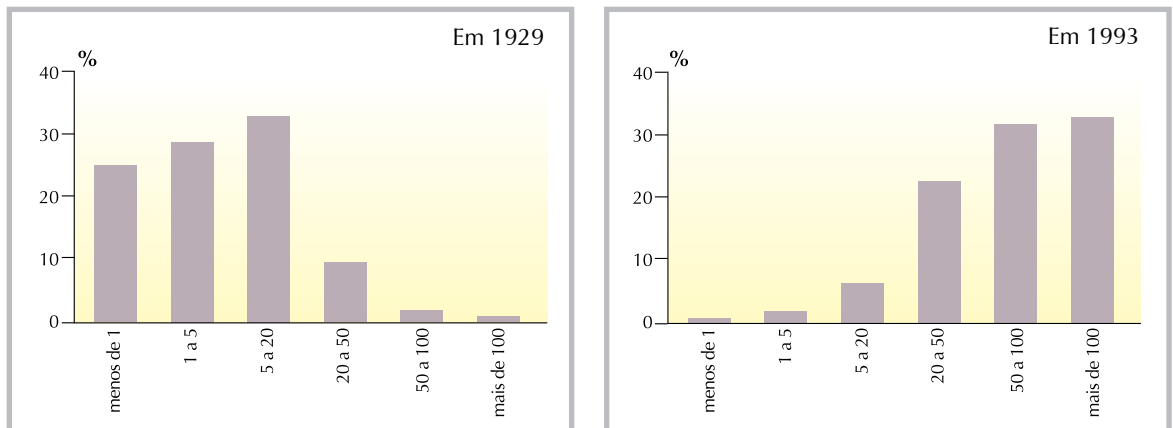
A partir da década de 1990, a resistência à hegemonia dos EUA na América Latina se fortaleceu com o surgimento de lideranças nacionais que constituem a chamada “nova esquerda latino-americana”. O ano de 2008 colocou um ponto de interrogação nesse processo, o que pode ocasionar mudanças capazes de enfraquecer essa composição política.

Essa nova conjuntura está relacionada a possíveis alterações em:

- (A) sistema econômico cubano com a renúncia de Fidel Castro
- (B) política externa boliviana com a vitória eleitoral de Evo Morales
- (C) regime tarifário brasileiro com a retomada do diálogo entre os países do Mercosul
- (D) estrutura agrícola paraguaia com a ação das forças de direita do governo recém-eleito

Questão 54

Dimensão das propriedades rurais na França (em hectares)



O remembramento

O remembramento é a operação que permitiu reagrupar as propriedades rurais na França. As paisagens rurais foram transformadas: os campos são cada vez mais abertos, as sebes (cercas de arbustos) são menos numerosas.

Adaptado de *Géographie – à monde ouvert*. Paris: Hachette, 1996.

Com base na interpretação do gráfico e do texto, a transformação observável nesse país e sua correspondente causa podem ser identificadas como:

- (A) coletivização rural – elevado incentivo governamental à agricultura comercial
- (B) concentração fundiária – pouca competitividade das pequenas fazendas
- (C) especialização produtiva – progressiva substituição da agricultura pela pecuária
- (D) urbanização do campo – acentuado dinamismo das atividades de comércio e serviços

Questão 55

E os governos do Terceiro Mundo sabem ainda menos sobre as suas fronteiras urbanas, esses estranhos limbos onde se faz a transição entre cidades ruralizadas e campos urbanizados.

A orla urbana é a zona de impacto social onde a força centrífuga da cidade colide com a implosão do campo.

MIKE DAVIS

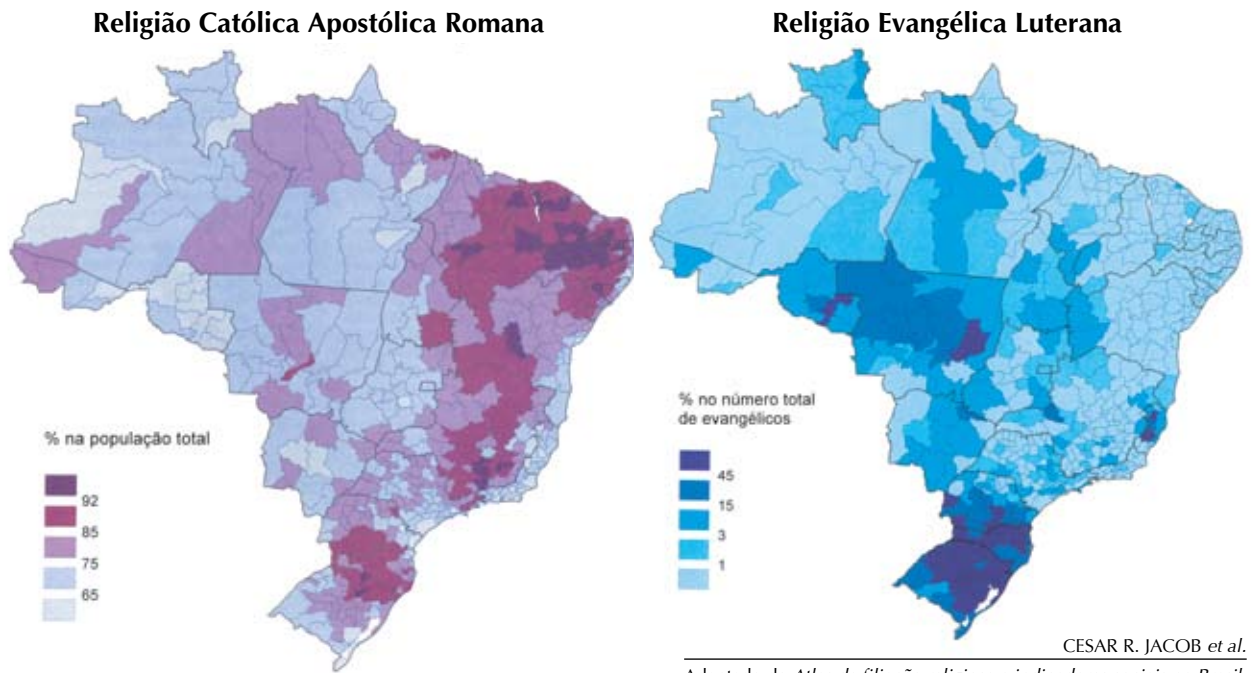
Adaptado de *Planeta favela*. São Paulo: Boitempo, 2006.

O trecho sublinhado sugere que a orla urbana das grandes metrópoles do Terceiro Mundo é a expressão espacial da convergência de dois processos.

Esses dois processos, significativos na segunda metade do século XX, são:

- (A) verticalização e imigração
- (B) periferização e êxodo rural
- (C) conurbação e migração pendular
- (D) industrialização e tráfico de mão-de-obra

Questão
56



CESAR R. JACOB *et al.*
Adaptado de *Atlas da filiação religiosa e indicadores sociais no Brasil*.
Rio de Janeiro/São Paulo: Ed. PUC-Rio/Loyola, 2003.

Os mapas indicam a distribuição espacial dos brasileiros que se declaram católicos ou luteranos. As áreas com maiores índices de concentração de católicos e luteranos, respectivamente, estão associadas ao predomínio, dentre outras, das seguintes características do país:

- (A) economia industrial – economia de plantation
- (B) ocupação recente – ocupação no período colonial
- (C) população de origem mediterrânea – população de origem alemã
- (D) percentual de urbanização elevado – percentual de ruralização baixo

Questão
57

Cresce a proporção de latinos nos EUA

Já se sabe que a população latina está mudando a face dos Estados Unidos, e os números confirmam: a cada 30 segundos nasce no país uma pessoa dessa origem. Os latinos são 14,2% da população, 40,5 milhões de pessoas. De acordo com os dados do censo americano, os latinos representam o segmento mais jovem.

PILAR MARRERO
Adaptado de <http://politicainternacional-jorge.blogspot.com>

O texto faz referência ao aumento da proporção de hispânicos na população estadunidense.

Além da imigração elevada, esse aumento é consequência direta do seguinte aspecto demográfico característico desse grupo:

- (A) estrutura etária associada a altas taxas de natalidade
- (B) taxa de emigração marcada por percentual elevado de idosos
- (C) população economicamente ativa concentrada nas áreas rurais
- (D) sobremortalidade masculina gerada por condições precárias de trabalho

Questão 58

Lula defende biocombustíveis das críticas crescentes

BRASÍLIA - O presidente Luiz Inácio Lula da Silva defendeu a produção de biocombustíveis pelo Brasil rejeitando as críticas de que ela acelera o aumento dos preços dos alimentos em todo o mundo e prejudica o meio ambiente.

As crescentes críticas são um desafio à diplomacia brasileira e ao auge das exportações agrícolas, que transformaram o Brasil no maior exportador mundial de etanol derivado da cana-de-açúcar.

Competidores e críticos tentaram relacionar várias das exportações agrícolas do país, da carne à soja, com a destruição do meio ambiente e com más condições de trabalho.

RAYMOND COLITT, em 16/04/2008
Adaptado de www.estadao.com.br

O debate a respeito do uso de biocombustíveis não envolve apenas questões ambientais, mas também diferentes interesses econômicos. Neste último caso, encontram-se países e empresas que lucram com a utilização em larga escala dos combustíveis fósseis e produtores de biocombustíveis. Nesse campo de lutas, o Brasil emerge como um potencial ator de primeira grandeza, posicionando-se no centro dessa polêmica.

Um alegado risco ambiental decorrente da maior produção de biocombustíveis no Brasil e uma vantagem territorial que fundamenta a defesa desta política de Estado, respectivamente, são:

- (A) desertificação – abundância de recursos hídricos
- (B) degradação dos solos – predomínio de solos férteis
- (C) desmatamento – disponibilidade de terras não cultivadas
- (D) disseminação de pragas – ocorrência de climas temperados

Questão 59

	SÃO PAULO	LONDRES	PARIS	NOVA YORK	TÓQUIO
POPULAÇÃO (milhões de habitantes)	18,8	8,5	9,9	19	35,7
PIB (em dólares)	225 bilhões	452 bilhões	460 bilhões	1,1 trilhão	1,2 trilhão
Posição que a cidade ocuparia, se fosse um país, no ranking das maiores economias	33º	20º	19º	11º	10º

Adaptado de *Veja*, 16/04/2008

Neste ano, segundo dados da ONU, o número de pessoas no mundo que mora em áreas urbanas ultrapassará a população que vive em áreas rurais. Entretanto, o processo de urbanização da humanidade é extremamente desigual, tanto em termos quantitativos como qualitativos.

As cidades da tabela fazem parte de um grupo caracterizado por uma especificidade que o distingue da maioria dos centros urbanos.

Essa especificidade está enunciada na seguinte alternativa:

- (A) cidades globais polarizam a economia mundial
- (B) megacidades concentram a urbanização dos países desenvolvidos
- (C) centros urbanos com PIB elevado agregam a função de capital nacional
- (D) megalópoles abrigam a maior parte da população de baixa renda do hemisfério norte

Questão
60

GRAUNA

Henfil



O Globo, 08/04/08

Pode-se falar de idade de um lugar? A propósito desta ou daquela cidade nascida com a colonização, é freqüente ler que foi fundada em tal ou tal ano. Por exemplo, a cidade de Salvador, Bahia, “foi fundada” em 1549 por Tomé de Souza. Será possível falar da idade de um lugar segundo outro critério?

MILTON SANTOS

Adaptado de *A natureza do espaço: técnica e tempo; razão e emoção*. São Paulo: EDUSP, 1996.

A Geografia e a História são ciências que estudam a sociedade a partir da inter-relação necessária das categorias tempo e espaço.

Com base na interpretação conjunta dos quadrinhos e do texto, pode-se relacionar tempo e espaço a partir do critério definido como:

- (A) era em que determinadas técnicas são inventadas em uma região
- (B) momento em que uma ou mais técnicas são difundidas em um território
- (C) época em que avanços técnicos são realizados em função de guerras em um país
- (D) período em que as técnicas são empregadas para a aferição da cronologia de uma área